

3年 組 番 名前()

① 1 3

× 3

--	--	--

② 1 4

× 2

--	--	--

③ 3 2

× 3

--	--	--

④ 2 1

× 4

--	--	--

⑤ 1 1

× 5

--	--	--

⑥ 2 2

× 3

--	--	--

⑦ 4 0

× 2

--	--	--

⑧ 3 0

× 2

--	--	--

* あまりのあるわり算

⑤ 5 8 ÷ 8

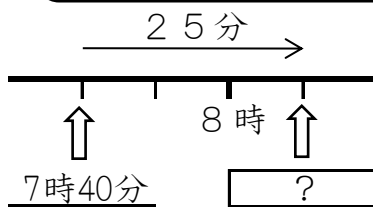
⑥ 2 8 ÷ 5

⑦ 8 7 ÷ 9

⑧ 5 3 ÷ 7

* 時間や時こくを もとめましょう。

① 家を7時50分に出て、25分歩いて学校につきました。ついた時こくは何時何分ですか。



--

② 2時20分から30分前の時こく

--

③ 90秒は 何分何秒ですか。

--

④ 85分は 何分何秒ですか。

--

3年 組 番 名前()

① 1 4

× 2

--	--	--

② 3 3

× 2

--	--	--

③ 4 2

× 2

--	--	--

④ 1 2

× 4

--	--	--

⑤ 1 1

× 6

--	--	--

⑥ 2 2

× 4

--	--	--

⑦ 2 0

× 3

--	--	--

⑧ 4 0

× 2

--	--	--

* あまりのあるわり算

① 1 5 ÷ 4

② 7 ÷ 3

③ 3 1 ÷ 5

④ 1 6 ÷ 6

* 円について□に言葉や数字を入れましょう。

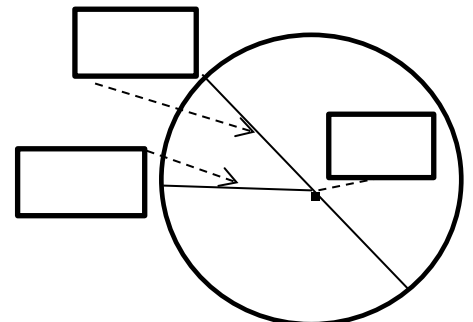
1つの点から長さが□なるようにかいた まるい形を

□といいます。また、円の中心を通り、円のまわり

からまわりまで引いた直線を□といいます。

直径の長さは、半径の長さの

□倍です。



* 円の部分の名前を書きましょう。⇒

3年 組 番 名前()

① 13×3

--	--	--

② 23×2

--	--	--

③ 34×2

--	--	--

④ 12×4

--	--	--

⑤ 11×8

--	--	--

⑥ 21×3

--	--	--

⑦ 40×2

--	--	--

⑧ 30×3

--	--	--

* あまりのあるわり算

⑤ $55 \div 9$

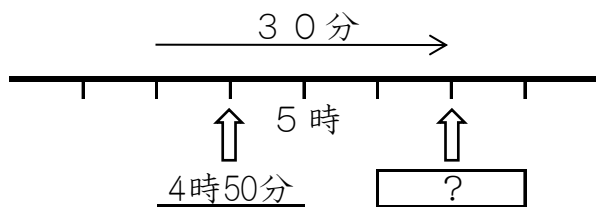
⑥ $50 \div 6$

⑦ $61 \div 8$

⑧ $53 \div 7$

* 時間や時こくを もとめましょう。

① たかしくんは、午後4時50分から、午後5時20分まで犬のさんぽをしました。さんぽした時間は、何分ですか。



--

② 3時40分から45分前の時こく

--

③ 75秒は 何分何秒ですか。

--


④ 90分は 何時間何分ですか。

--

3年 組 番 名前()


① 2 5

× 4




② 6 3

× 2




③ 4 4

× 5




④ 4 6

× 3




⑤ 4 3

× 6



⑥ 2 6

× 7




⑦ 1 4

× 9



⑧ 7 3

× 7



* あまりのあるわり算

① 5 ÷ 2

② 13 ÷ 6

③ 23 ÷ 4

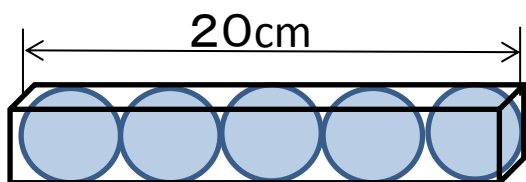
④ 36 ÷ 8

* 次の 問題に 答えましょう。

* ボールのような形で、どこから見ても円に見える形を

といいます。

* 箱の中にボールが5こが ぴったり入っています。
このボールの直径と半径はそれぞれ何cmですか。
(式)



直径

半径