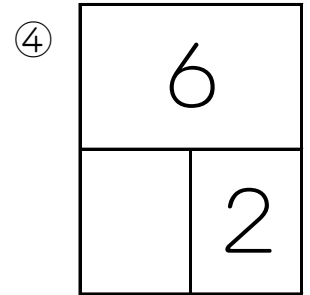
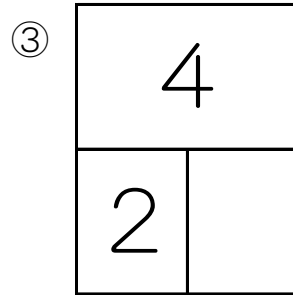
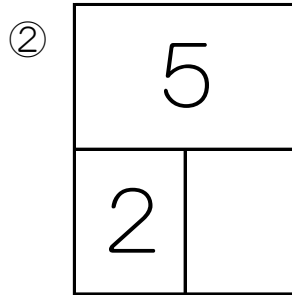
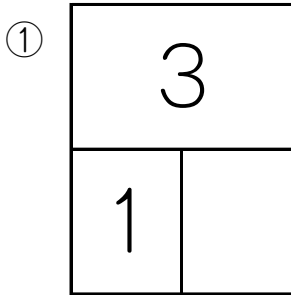


なまえ

* いくつといくつになるかかずをかきましょう。



* ひきざんのけいさんをしましょう。

① $4 + 2$

② $1 + 4$

③ $3 + 5$

④ $6 + 2$

⑤ $7 + 2$

⑥ $4 + 3$

⑦ $5 + 2$

⑧ $7 + 2$

⑨ $0 + 6$

⑩ $2 + 3$

* □にあてはまるかずをかきましょう。

① $2 + \square = 7$

② $\square + 3 = 6$

③ $5 + 1 = \square$

④ $\square + 3 = 5$

⑤ $4 + 5 = \square$

⑥ $3 + \square = 8$